
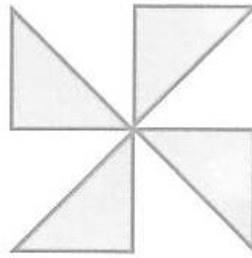


さんすう かたちづくり (なまえ)

もんだい 1

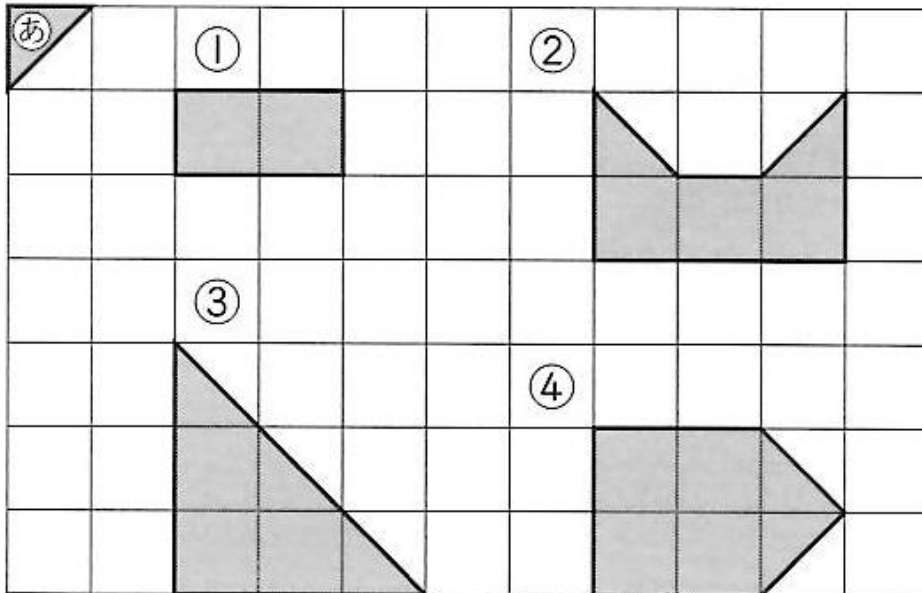
 の いろいたが
なんまいで できて いますか。



() まい

もんだい 2 ①～④の かたちを つくいます。

それぞれ ㊦の いろいたは なんまい いきますか。





① () まい

② () まい

③ () まい

④ () まい

もんだい 3

 の なかの かたちと
おなじ かたちを  の したに
かきましょう。

