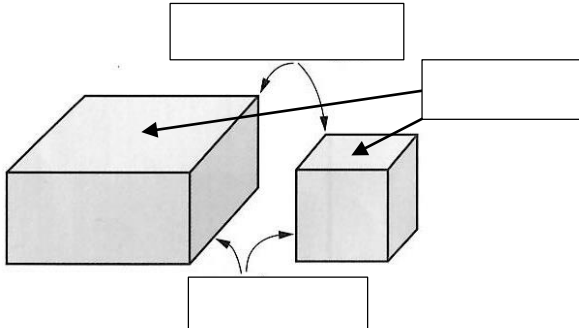


算数

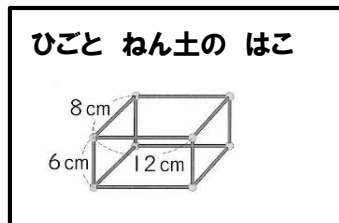
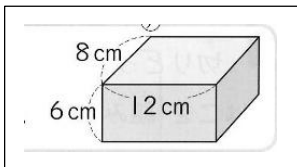
はこの形 ①

名前

1 にあう ことばを 書きましょう。



2 ひごと ねん土玉を つかって、はこの形を作りましょう。 92ページ



① つぎの 長さの ひごは、何本いらいますか。ひごは、ぜんぶで 何本いらいますか。

○6cm の ひご ()本

○8cm の ひご ()本

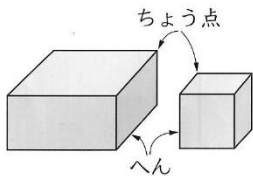
○12cm の ひご ()本



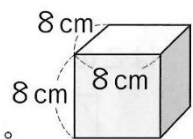
ぜんぶで ()本

② ねん土玉は 何こ ひつようですか。()こ

③ はこの形には、へんが()、ちょう点が()つ あります。



3 ひごと ねん土玉で、さいころの形を つくります。92ページ



① どんな 長さのひごが 何本いらいますか。

② ねん土玉は 何こいらいますか。()こ

算数

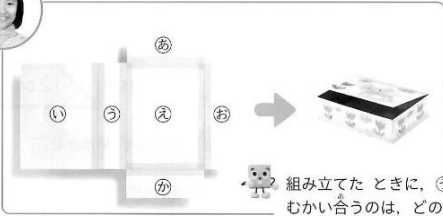
はこの形 ②

名前

1 切りとった面をテープでつないで、はこを組み立てました。91ページ



りりこ

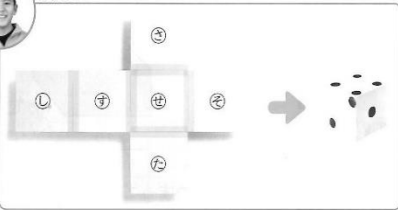


組み立てたときに、⑤の面とむかい合うのは、どの面かな。

① 面の形は、何という 四角形ですか。

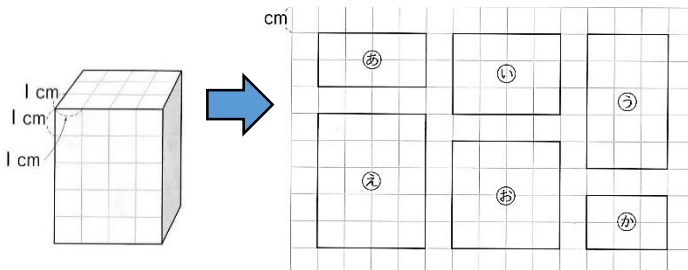


しょうご



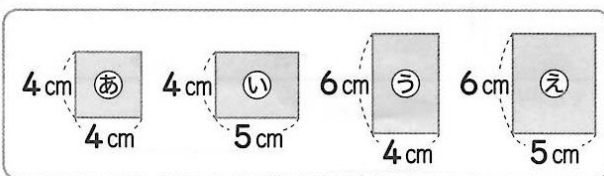
② 面の形は、何という 四角形ですか。

2 下の図のような はこを作ります。93ページ

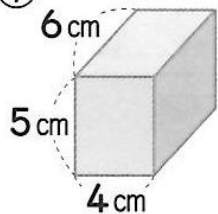


① 左の図の どの四角形が いくつずつ いきますか。

2 つぎの はこ を 作るには、それぞれ ㊸~㊺の 四角形が 何まいいきますか。

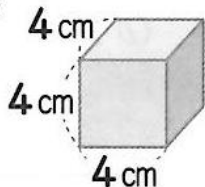


①



(㊹)の四角形が ()まいと、
 ()の四角形が ()まいと、
 ()の四角形が ()まい。

②



()の四角形が ()まい。